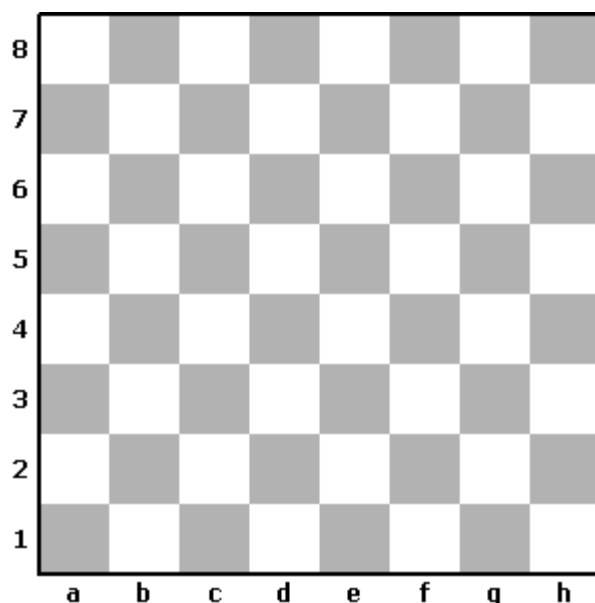


ОЛИМПИАДА ПО ШАХМАТАМ (ДЛЯ ДЕТЕЙ 5-6 ЛЕТ): ПУТЕШЕСТВИЕ В СТРАНУ ГРЁЗ

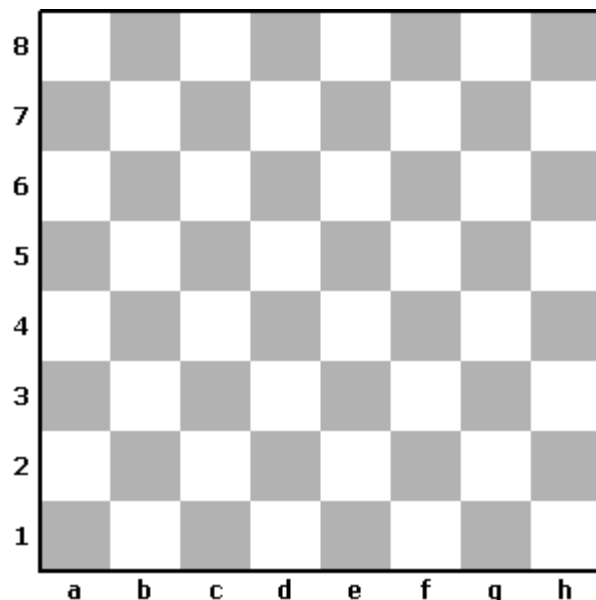
В былые времена мальчик с необычным именем Ален побывал в загадочной Стране Грёз. Умение играть в шахматы помогло ему обрести верных друзей, одолеть колдунью Королеву Зла и спасти всё человечество от большой угрозы (<http://suhin.narod.ru/alen2.htm>, <http://suhin.narod.ru/alen3.htm>, <http://suhin.narod.ru/alen4.htm>, <http://suhin.narod.ru/alen5.htm>)

Теперь в Страну Грёз можешь отправиться и ты...

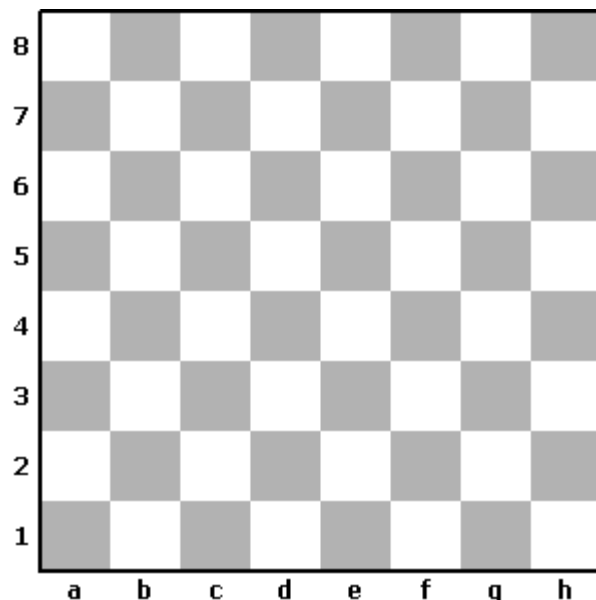
**ТЫ ТРИ РАЗА ХЛОПАЕШЬ В ЛАДОШИ,
ОКАЗЫВАЕШЬСЯ В СТРАНЕ ГРЁЗ И ВИДИШЬ
ШАХМАТНУЮ ДОСКУ**




1. Задание "Вертикаль": Сколько всего вертикалей на шахматной доске? Ответ запиши цифрой в квадрате, нарисованном ниже.




2. Задание "Горизонталь": Сколько чёрных полей в любой горизонтали шахматной доски? Ответ запиши цифрой в квадрате, нарисованном ниже.



3. Задание "Диагональ": Сколько всего на шахматной доске больших диагоналей? Ответ запиши цифрой в квадрате, нарисованном ниже.




4. Задание "Кони": На шахматной доске расставлено начальное положение. Сколько всего коней ты видишь? Ответ запиши цифрой в квадрате, нарисованном ниже.




5. Задание "Фигуры": На шахматной доске расставлено начальное положение. Сколько фигур расположено на восьмой горизонтали? Ответ запиши цифрой в квадрате, нарисованном ниже.


6. Задание "Нападение": Напади белым ферзём за один ход на чёрную ладью так, чтобы ферзь не оказался под боем. Правильный ход укажи стрелкой.




7. Задание "Взятие ладьёй": Побей белой ладьёй незащищённую чёрную фигуру. Верный ход укажи стрелкой.



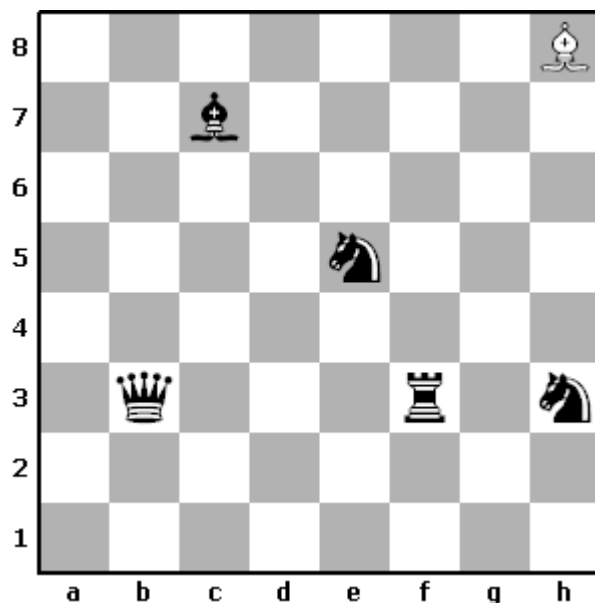
8. Задание "Взятие конём": Побей белым конём незащищённую чёрную фигуру или пешку. Верный ход укажи стрелкой.



9. Задание "Раскраска": Закрась ручкой или карандашом такие чёрные фигуры, чтобы в позиции на диаграмме был мат чёрному королю.



10. Задание "Перехитри часовых": Какое наименьшее количество ходов потребуется белому слону, чтобы добраться до нижнего чёрного углового поля? Ходит только белый слон, но чёрные фигуры могут побить его, если белый слон встанет под удар.



Ответ запиши цифрой в квадрате, нарисованном ниже.

